

1102

Форма бланка ответов

ТИТУЛЬНЫЙ ЛИСТ

Всероссийская олимпиада школьников Муниципальный этап

Заполняется ПЕЧАТНЫМИ БУКВАМИ чернилами черного или синего цвета по образцам:

А	Б	В	Г	Д	Е	Ж	З	И	К	Л	М	Н	О	П	Р	С	Т	У	Ф	Х	Ц	Ч	Ш	Щ	Ъ	Ы	Ь	Э	Ю	Я	@	8	9	.
A	B	C	D	E	F	G	H	I	J	K	L	M	N	O	P	Q	R	S	T	U	V	W	X	Y	Z	1	2	3	4	5	6	7	0	.

ПРЕДМЕТ ГЕОГРАФИЯ КЛАСС 11

ДАТА 26 . 11 . 2021

ШИФР УЧАСТНИКА

1 1 02

ФАМИЛИЯ Сурьян  
ИМЯ Артур  
ОТЧЕСТВО Валенти

Документ, удостоверяющий личность:  свидетельство о рождении  паспорт  Российская Федерация  Иное  
серия 0218 номер 508196

Дата рождения 23 . 03 . 2005

Домашний телефон участника +7 \_\_\_\_\_  
Мобильный телефон участника +7 9383392646  
Электронный адрес участника artur508196@bk.ru

Муниципалитет: город-курорт Кисловодск

Сокращенное наименование образовательной организации (школы):  
МБОУ СОШ №9

Сведения о педагогах-наставниках

1. Фамилия Ахалва  
Имя Калина  
Отчество Александровна

Сокращенное наименование образовательной организации (школы):  
МБОУ СОШ №9

2. Фамилия \_\_\_\_\_  
Имя \_\_\_\_\_  
Отчество \_\_\_\_\_

Сокращенное наименование образовательной организации (школы):  
\_\_\_\_\_

Личная подпись участника

Сурьян

Все поля обязательны к заполнению!



## ВСЕРОССИЙСКАЯ ОЛИМПИАДА ШКОЛЬНИКОВ ПО ГЕОГРАФИИ

МУНИЦИПАЛЬНЫЙ ЭТАП 2021/22 УЧЕБНОГО ГОДА

## ТЕОРЕТИЧЕСКИЙ ТУР

возрастная группа 9-11 классы

**Уважаемый участник олимпиады!**






Вам предстоит выполнить теоретические задания.

Время выполнения заданий теоретического тура 1,5 часа (90 минут).

Выполнение теоретических (письменных) заданий целесообразно организовать следующим образом:

- не спеша, внимательно прочитайте задание и определите, наиболее верный и полный ответ;
- отвечая на теоретические вопросы и выполняя практические задания, обдумайте и сформулируйте конкретный ответ только на поставленный вопрос;
- если Вы отвечаете на задание, связанное с заполнением таблицы или схемы, не старайтесь детализировать информацию, вписывайте только те сведения или данные, которые указаны в вопросе;
- особое внимание обратите на задания, в выполнении которых требуется выразить Ваше мнение с учетом анализа ситуации или поставленной проблемы. Внимательно и вдумчиво определите смысл вопроса и логику ответа (последовательность и точность изложения). Отвечая на вопрос, предлагайте свой вариант решения проблемы, при этом ответ должен быть кратким, но содержать необходимую информацию;
- после выполнения всех предложенных заданий еще раз удостоверьтесь в правильности выбранных Вами ответов и решений.

Задание теоретического тура считается выполненным, если Вы вовремя сдаете его членам жюри. **Максимальная оценка – 40 баллов.**

 1-48  
 2-6  
 3-10  
 4-5  
 5-4  
 Теоретический - 24  
 Практический - 8

# ТИТУЛЬНЫЙ ЛИСТ

Всероссийская олимпиада школьников \_\_\_\_\_

Этап \_\_\_\_\_

Заполняется ПЕЧАТНЫМИ БУКВАМИ чернилами черного или синего цвета по образцам:

А	Б	В	Г	Д	Е	Ж	З	И	К	Л	М	Н	О	П	Р	С	Т	У	Ф	Х	Ц	Ч	Ш	Щ	Ъ	Ы	Ь	Э	Ю	Я	@	8	9	,
А	В	С	Д	Е	Г	Ж	З	И	К	Л	М	Н	О	П	Р	Q	R	S	T	U	V	W	X	Y	Z	1	2	3	4	5	6	7	0	.

ПРЕДМЕТ \_\_\_\_\_ КЛАСС \_\_\_\_\_

ДАТА \_\_\_\_\_

ШИФР УЧАСТНИКА

ФАМИЛИЯ \_\_\_\_\_  
ИМЯ \_\_\_\_\_  
ОТЧЕСТВО \_\_\_\_\_

Документ, удостоверяющий личность \_\_\_\_\_ Гражданство \_\_\_\_\_  
 свидетельство о рождении       паспорт       Российская Федерация  
 серия \_\_\_\_\_ номер \_\_\_\_\_  Инос

Дата рождения \_\_\_\_\_

Домашний телефон участника + 7 \_\_\_\_\_  
 Мобильный телефон участника + 7 \_\_\_\_\_  
 Электронный адрес участника \_\_\_\_\_

Муниципалитет \_\_\_\_\_

Сокращенное наименование образовательной организации (школы) \_\_\_\_\_

Сведения о педагогах-наставниках

1. Фамилия \_\_\_\_\_  
 Имя \_\_\_\_\_  
 Отчество \_\_\_\_\_  
 Сокращенное наименование образовательной организации (школы) \_\_\_\_\_

2. Фамилия \_\_\_\_\_  
 Имя \_\_\_\_\_  
 Отчество \_\_\_\_\_  
 Сокращенное наименование образовательной организации (школы) \_\_\_\_\_

Личная подпись участника \_\_\_\_\_ Все поля обязательны к заполнению!

**Задача 1.**

Эта отрасль является одной из наиболее прибыльных и капиталоемких отраслей машиностроения. В мире лишь 5-6 стран, в том числе и Россия, обладают полным циклом создания конечного продукта этой отрасли. Предприятия отрасли размещены, как правило, в крупных промышленных центрах, где готовые изделия собираются на головных предприятиях из деталей и узлов, поставляемых сотнями смежников. Продукция имеет как гражданское, так и военное исполнение.

Главные факторы размещения предприятий отрасли — наукоемкость, трудоемкость и металлоемкость.

Определите, о какой отрасли промышленности идет речь?

Авиастроительство 10

Какой металл является главным конструкционным материалом в данной отрасли? Алюминий 10

Укажите крупнейшие центры производства этой отрасли на территории России:

№	Город
1	Тольятти
2	Волгоград
3	Кавказские земли
4	Самара 0,75
5	Новгород Респ. 0,75
6	Город Казань
7	Казань Волгоград
8	Москва
9	Санкт-Петербург
10	Всёволохи



## Задача 2.

Этот термин является одной из наиболее часто встречающихся ассоциаций с Россией. Энциклопедический словарь Брокгауза и Ефрона считает, что он происходит от греческого слова *κρημνός*, имеющего значение «крутизна, крутая гора над берегом или оврагом». В геоурбанистике под ним понимают укрепленное ядро исторического русского города, центральную и наиболее древнюю его часть.

Рисунок 1



Рисунок 2



В 2009 году Почта России выпустила 12 марок с изображениями наиболее знаменитых и сохранившихся сооружений (рисунок 1-2), которые называют этим термином.

О каком термине идет речь? Крепость 10

Перечислите все 12 городов, изображенных на марках 2009 года.

№	Город
1.	Москва 0,75
2.	Новгород 0,75
3.	Владимир 0,75
4.	Ярославль 0,75
5.	Тверь 0,75
6.	Томск
7.	Астрахань 0,75
8.	Валдай
9.	Воронеж
10.	Киев
11.	Тамбов
12.	Эривань

**Задача 3.**

Эта отрасль была одной из крупнейших высокодоходных и наиболее динамичных отраслей мирового хозяйства до 2020 года. На нее приходилось до 30% мировой торговли услугами и 10% мирового ВВП. По оценкам экспертов, услугами этой отрасли пользовался каждый житель планеты в среднем один раз в год, а общая численность занятых в ней составляла свыше 250 млн. человек.

Перед Вами данные о главном показателе (табл. 1) в десяти ведущих странах мира, характеризующем данную отрасль.

Таблица 1

Страна	Показатель (млн. человек)
....	89,4
....	83,7
....	79,3
Китай	65,7
Италия	64,5
Турция	51,2
Мексика	45,0
Таиланд	39,8
Германия	39,6
Великобритания	39,4

О какой отрасли идет речь? Туризм 25

Какой показатель отображен в таблице? Количество туристов в год 18

Укажите пропущенные в таблице ТОП-3 страны, лидирующие по данному показателю.

- 1) С.Ш.А. 2
- 2) Франция 2
- 3) Испания 2

Какое событие остановило развитие данной отрасли в 2020 году?  
Последствия COVID-19 - по Коронавирусу не разрешают людям путешествовать

18

106



#### Задача 4.

В политической географии под этим термином понимают «...часть территории государства, полностью окружённая территорией другого государства». Иногда, вся территория государства окружена территорией соседнего государства. О каком термине идет речь?

*Англо-Англо 16*

По приведенным ниже описаниям определите страны мира, которые можно назвать этим термином, а также страны, которые их окружают.

**Описание 1.** Является самым маленьким государством континентальной Африки. Территория имеет вытянутую вдоль одноименной реки форму. Экономически слабо развитое аграрное государство, основным продуктом экспорта является арахис (40% стоимости экспорта).

**Описание 2.** Государство находится на северо-западном берегу третьего по площади острова в мире. Форма правления – абсолютная теократическая монархия. Основу экономики государства составляет добыча и переработка нефти, благодаря чему по показателю ВВП на душу населения страна входит в ТОП-30.

**Описание 3.** Самое старое государство Европы. Название происходит от имени христианского святого, согласно легенде основавшего государство. Основными отраслями экономики страны являются банковское дело, туризм, электронная промышленность и виноделие.

**Описание 4.** Африканское государство, вся территория которого находится выше 1400 м над уровнем моря. По форме правления является конституционной монархией. Одной из главных проблем в стране является высокий уровень заражения населения ВИЧ (29%, третье место в мире).

**Описание 5.** Одна из наиболее густонаселённых стран мира. Государство получило независимость в 1297 г. в ходе гражданской войны в Генуэзской республике. Основу экономики составляют туризм, игорный бизнес и торговля недвижимостью.

№ описания	Страна	Окружающая страна
1	<i>Фос-Свазиленд</i>	<i>ЮАР</i>
2	<i>Бруней 0,8</i>	<i>Малайзия 0,8</i>
3	<i>Мальта Сан-Марино</i>	<i>Италия 0,8</i>
4	<i>Лесото 0,8</i>	<i>ЮАР 0,8</i>
5	<i>Ватикан</i>	<i>Италия</i>



**Задача 5.**

Ставропольский край отличается пёстрым этническим составом населения. По данным Всероссийской переписи населения 2010 года русское население по-прежнему является наиболее многочисленным (2232,2 тыс. человек) и составляет 80,9% населения края. Однако численность других этнических групп сильно изменилось.

Ниже приведены описания самых многочисленных народов Ставропольского края (за исключением русских). Напишите их названия и ответьте на дополнительные вопросы в таблице 2.

**Описание 1.** Этот этнос занимает второе место по численности населения в крае - 5,9%. По данным ВПН-2010 численность этой этнической группы в крае составила 161,3 тысячи человек и увеличилась за 20 лет в 2,3 раза. Представители этого этноса являются христианами. Язык представителей этого этноса, относится к индоевропейской семье языков и выделяемый в ней в особую ветвь. Представители этого этноса появились на территории Ставропольского края в конце 18 века сначала в Ставрополе, где ими был основан целый квартал, а затем в Георгиевской крепости. В 1799 году им разрешили основать поселение Святой Крест (Буденновск). В конце 18 века на территории Ставропольского края представителями этого этноса основано еще одно поселение – с. Касаева Яма, которое существует и настоящее время, численность представителей этого этноса здесь составляет 95%. Сейчас село имеет другое название, назовите какое.

**Описание 2.** Этот этнос, по результатам переписи 2010 года, является третьим по численности населения в крае – 49,3 тысячи человек. За последние сорок лет численность представителей этого этноса в крае увеличилась в 7,4 раза. Представители этого этноса исповедуют ислам суннитского толка. Они разговаривают на языке, относящегося к нахско-дагестанской ветви северокавказской семьи языков. Первый этап переселения этноса на территорию Ставропольского края приходится на конец 50-х – 60-е гг. XX в. В этот период переселилась основная часть этнической группы. Представители этого этноса переселились на Ставрополье для занятия животноводством.

**Описание 3.** Этнос является четвертым по численности в Ставропольском крае (в 2010 году составила 33,6 тыс. человек). За последние годы в крае наблюдается снижение численности представителей этого этноса на 1,5%. Представители этого этноса в основном являются христианами, абсолютное большинство которых исповедует православие. Разговаривают на языке, входящем в подгруппу палеобалканских языков индоевропейской языковой семьи. Представители этого этноса, проживающие на территории Ставропольского края - это выходцы из бывшей Турецкой области Понт.

Таблица 2

№	Этнос	Места преимущественного проживания этноса в Ставропольском крае	Населенный пункт с самой большой численностью данного этноса.
1	Армяне	КМВ	Т. Ямшурлы
2	Касаевцы	К. Яма	
3	Татары	КМВ Ессентуки	Ессентуки



## Часть 1 (тесты)

№	Ответ (А – Г)
1.	A
2.	B
3.	A
4.	A
5.	ХТ
6.	B
7.	B
8.	B
9.	B
10.	Г

№	Ответ (А – Г)
11.	Г
12.	Г
13.	A
14.	Г
15.	A
16.	Б
17.	Г
18.	Г
19.	A
20.	Г

№	Ответ (А – Г)
21.	B
22.	Г
23.	A
24.	Г
25.	Г
26.	A
27.	B
28.	Б
29.	A
30.	Б

24  
8

1102

код участника  
(не заполнять!)

Часть 2 (ответы на вопросы по карте)

№	Ответ
<b>Блок 1</b>	
A	Субъект РФ: <u>Республика Казахстан</u> Муниципальные округа: <u>Жанар, Жетисай, Жетисайский, Жетисайский</u>
B	<b>Административные центры муниципальных округов</b> <u>Жанар, Жетисай, Жетисай</u>
B	<b>Название самого северного населенного пункта</b> <b>расстояние до него от административного центра муниципального округа</b> км
Г	<b>Что это за граница?</b> <u>Глобальная граница между Европой и Азией</u> <b>Как называется этот элемент рельефа?</b> <u>Рыно-Валовый водораздел</u>
<b>Блок 2</b>	
A	<b>Масштаб карты:</b> _____ <b>Способы расчета:</b> 1) <u>Точку координат карты вычислить относительно</u> 2) <u>из определений масштаба на масштабной карте и соотношения</u> 3) <u>с предельными</u>
B	<b>Абсолютная высота горизонтали с наиболее низкими отметками на карте:</b> _____
B	<b>Географические координаты:</b> <u>46°30' с.ш. 95°45' в.д.</u>
<b>Блок 3</b>	
A	<b>Промышленность:</b> <u>Металлургическая, химическая промышленность, пищевая, металлообработка</u> <b>Сельское хозяйство:</b> <u>скотоводство, земледелие (зерновое), животноводство, овощеводство, ферро-машиностроение и кузнечное</u> <b>Сфера услуг:</b> _____
B	<b>Названия географических объектов и их происхождение:</b> <b>Природное:</b> <u>Горные массивы - Восточные горы</u> <b>Этно-историческое и хозяйственное:</b> <u>Дербентская - Луиза г. Дербент, Виноградный - обилие производства виноградной лозы</u>
B	<b>Гидротехнические объекты:</b> <u>Дербентская водопроводная, Дербентский канал</u>



1102

код участника  
(не заполнять!)

### Карта к части 2

